































Welche Zahlen sind hier versteckt?

1	2	 3	4	5	6	7	8	9	 10
11	12	13	14	15	16	17	18	19	20
21	22	23	24	25	26	27	28	 29	30
31	32	33	34	35	36	37	38	 39	40
 41	42	43	44	45	 46	47	 48	49	50
51	 52	53	 54	 55	56	57	58	 59	60
61	62	63	64	65	66	67	68	69	70
71	72	73	74	75	76	77	 78	79	80
81	 82	83	 84	85	86	 87	88	89	90
91	92	93	94	95	96	97	98	99	100

	<input type="text"/>		<input type="text"/>		<input type="text"/>		<input type="text"/>		<input type="text"/>
	<input type="text"/>		<input type="text"/>		<input type="text"/>		<input type="text"/>		<input type="text"/>
	<input type="text"/>		<input type="text"/>		<input type="text"/>		<input type="text"/>		<input type="text"/>