






































































Mathe on the beach

Jeden Tag sammeln Tom und Paula Muscheln am Strand. Abends rechnen sie aus, wie viele sie zusammen haben. Hilf ihnen dabei und rechne im Kopf.

																		
	1	5	+	2	3	=												
	2	5	+	3	4	=												
	1	2	+	4	7	=												
	1	4	+	3	2	=												
	3	7	+	2	1	=												
	2	5	+	5	0	=												
																		
																		
																		
																		

Erkläre, welchen Trick du beim Kopfrechnen angewendet hast.

Toms Mama hat die Muscheln der Kinder durcheinander gebracht, sie müssen wieder neu rechnen. Hilf ihnen und zeige deinen Rechenweg.

																		
	2	7	+	4	6	=												
	<hr/>																	
																		
																		
																		
	3	8	+	2	7	=												
	<hr/>																	