


1 Welcher Anteil an Chamäleons ist grün? Schreibe als Bruch.

Antwort:




2 Welcher Anteil des Kuchens wurde schon gegessen?

Antwort:



3

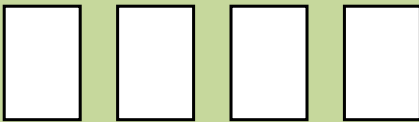


$$\frac{16}{16} = 1$$



$$\frac{4}{16} = \frac{2}{8} =$$

4 Lisa hat vier Kätzchen. Welcher Anteil der Kätzchen ist:




weiß rot grau schwarz



5 Welcher Anteil der Pizza ist übrig, wenn Lisa und ihre Freunde sechs Stücke essen?



6 Welcher Anteil der Schokoladentafel ist umrandet?



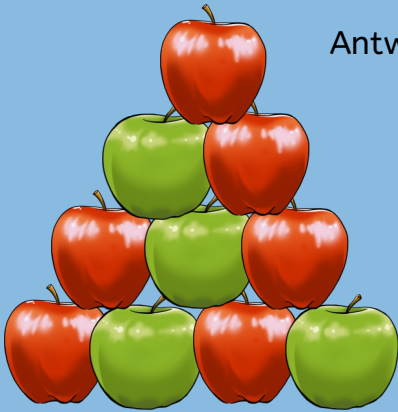
$$\frac{12}{12} = 1$$



$$\frac{6}{12} =$$

7

A) Lisas Papa hat Äpfel gekauft.
Welcher Anteil der Äpfel ist rot?




Antwort:

B) Welchen Anteil der Äpfel isst Lisa,
wenn sie einen roten und einen
grünen Apfel isst?

Antwort:

8

A) Lisas Oma züchtet Wellensittiche.
Welcher Anteil der Vögel ist blau?



Antwort:

B) Welcher Anteil der Vögel bleibt zurück,
wenn Lisas Oma einen Vogel verkauft?

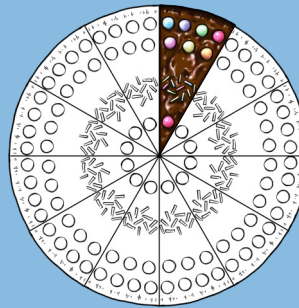
Antwort:

9


Welcher Anteil ist farbig?




=




=




=



=



=



=