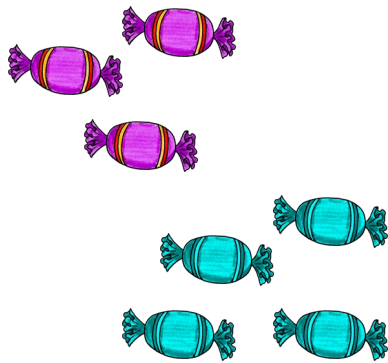




Start





Du hast 3 lila
Bonbons und 4
blaue. Wie viele
hast du insgesamt?

 $4 + 5$ 


Tim lässt 3 rosa
Ballons steigen und
Asha 5 gelbe. Wie
viele Ballons fliegen
in den Himmel?



Du hast 3 goldene
Bonbons und 6 rote.
Wie viele hast du
insgesamt?

 $5 + 5$ 

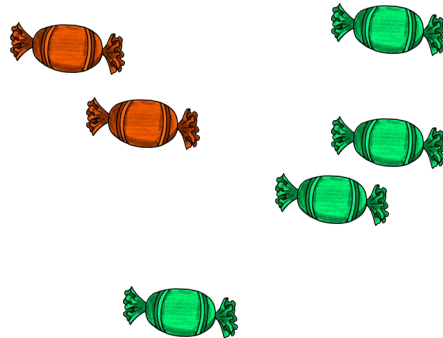
$$3 + 7$$




Im Meer
schwimmen 8 grüne
und 2 blaue Fische.
Wie viele sind es
insgesamt?




$$4 + 3$$



Maya bekommt 2
rote Bonbons von
Mama und 4 grüne
von Opa. Wie viele
hat sie nun?



4 orange und 6
grüne Fische
schwimmen
zusammen. Wie
groß ist der
Schwarm?



$$6 + 5$$

Ende